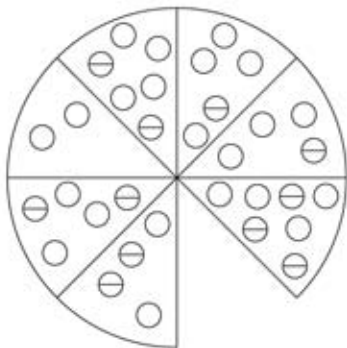
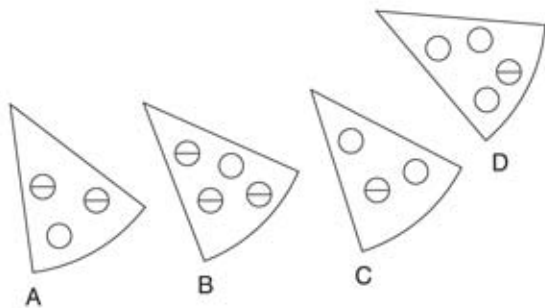


# TEST NUMERO 1

1.



1. Quelle est la section manquante



2. Quel est le mot dont le sens est le plus opposé de morne ?

Pratique, joyeux, intéressé, alerte, vif

3. Quel nombre doit remplacer le point d'interrogation ?

52, 25, 77, 77, ? , 451, 605

4. Parmi ce qui suit, lequel n'est pas un anagramme d'un océan ou d'une mer ?

CAR INTACT

HAY SALAMI

AQUIDE RITA

ARABIC ES

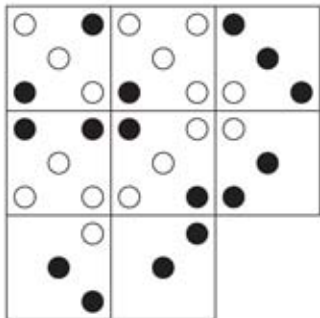
5. Quel est l'intrus ?

levraut, poulain, veau, jars, cabri

6. Quel nombre doit remplacer le point d'interrogation ?

15, 30, 45, 90, 135, 270, ?

7



Quel est la tuile manquante ?



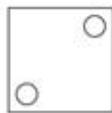
A




B



C



D




E



F

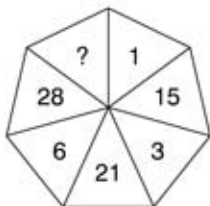


G



H

8. Quel nombre doit remplacer le point d'interrogation ?



9

7	4	11	15
2	?	?	8
9	?	16	23
11	?	21	31

Quelle est la section manquante ?

3	5
7	
10	

A

4	6
8	
12	

B

3	5
8	
12	

C

4	6
7	
10	

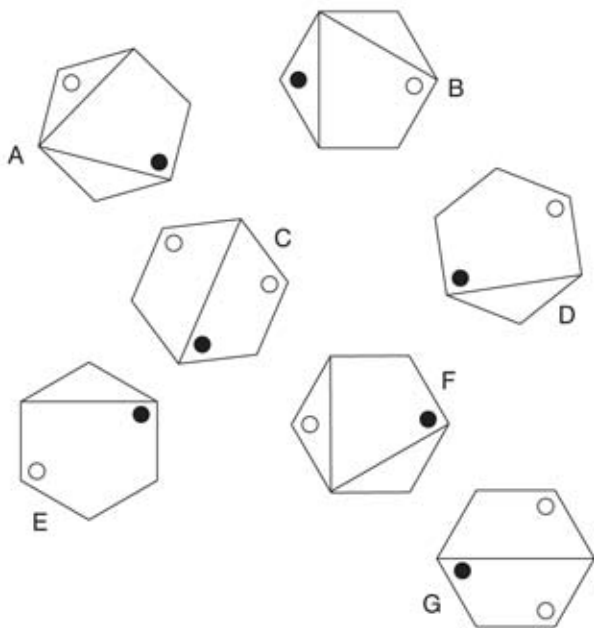
D

10

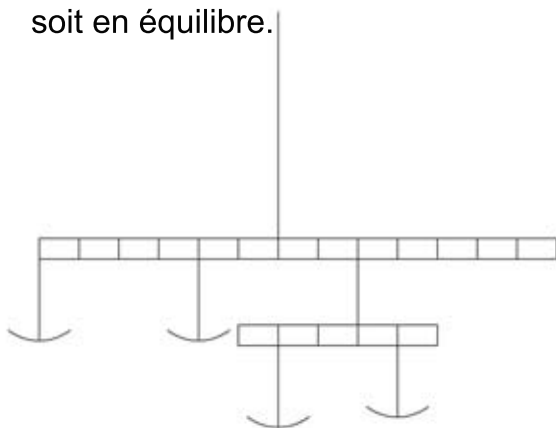
<b>N</b>	<b>F</b>	
<b>E</b>	<b>R</b>	<b>R</b>
<b>R</b>		<b>C</b>

Commencez par un carré dans un coin et tournez dans le sens des aiguilles d'une montre autour du périmètre en terminant au centre pour former un mot de 9 lettres. Vous devez fournir les lettres manquantes.

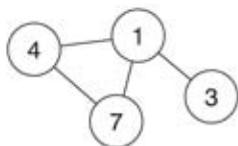
# 11 Quel est l'intrus ?



12 Vous avez 4 poids de 1g, 2g, 3g, 4g.  
Placez un poids par plateau, pour que la balance soit en équilibre.



13. Insérez les nombres de 1 à 6 dans les cercles (1 est déjà placé) afin que pour chaque cercle la somme des nombres des cercles qui lui sont directement connectés soit égale à la valeur correspondant à ce cercle, comme indiqué dans la liste. EXEMPLE :

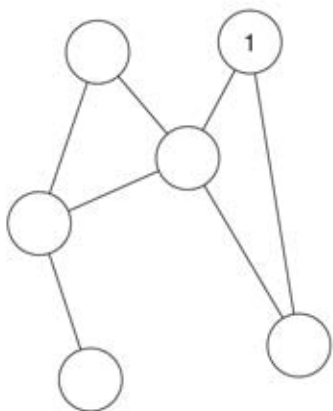


$$1 = 14 (4 + 7 + 3)$$

$$4 = 8 (7 + 1)$$

$$7 = 5 (4 + 1)$$

$$3 = 1$$



$$1 = 10$$

$$2 = 3$$

$$3 = 11$$

$$4 = 15$$

$$5 = 7$$

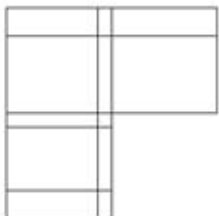
$$6 = 5$$

14. MNOP est à TSRQ ce que EFGH est à ?


15. Complétez les lettres manquantes pour trouver un métier :

---- f fag ----


16



Quel est le cube manquant ?




A



B



C



D



E

17. Trouvez un antonyme d'exalter parmi :  
Applaudir, dénigrer, assouvir, miner

18. Trouvez les deux mots ayant les sens les plus proches :

Tranquille, placide, trembler, transgresser, tacite, aptitude

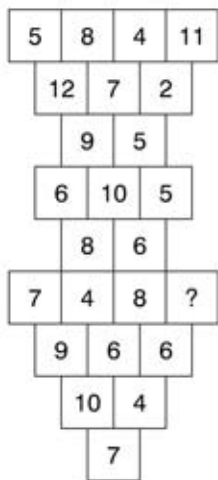
19. Qu'est-ce qu'un merle ?

- a) Un oiseau noir
- b) Un bateau
- c) Un tunnel
- d) Une plage

20. Quel nombre vient ensuite ?

482, 693, 714, 826, 937, ?

21. Quel nombre doit remplacer le point d'interrogation ?



22 Complétez les lettres manquantes pour produire un terme mathématique.

Indice : forme

- - - MB - - - -



23. Complétez les lettres manquantes pour former des noms de poisson :

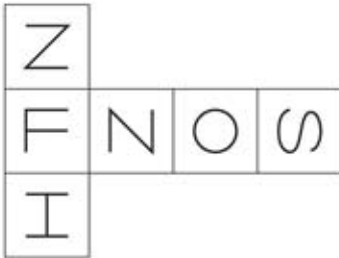
BA - - AC - - A

- O - S - E - T-

24. que veut dire urbain ?

- a) civil
- b) périphérique
- c) indiscipliné
- d) s'amender

25



lorsque cette forme est pliée pour constituer un cube, quel est le seul parmi les suivant qui peut être produit ?



A



B



C



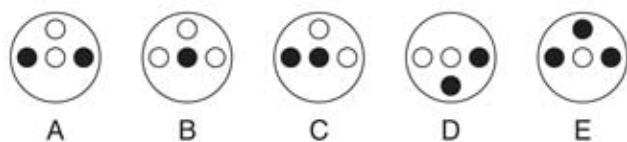
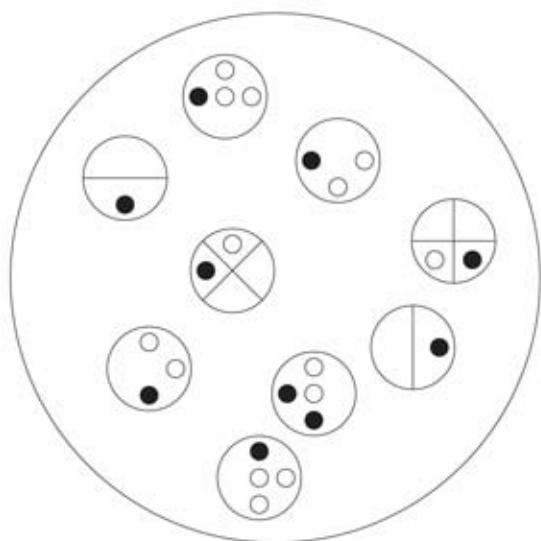
D



E

26 Simplifiez  $+ 6 - 22 \times 3 - 8$

27. Quel est le cercle manquant ?



28

4		7
	4	
4		8

7		6
	40	
9		2

6		3
	?	
9		4

Quel nombre doit remplacer le point d'interrogation ?