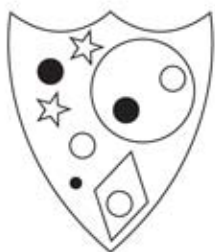


# TEST NUMERO 3

1. Quel est l'intrus ?



A



B



C



D



E

2. quel est l'intrus?

anéantir, dompter, renverser, écraser, pulvériser.

3. quelle est la section manquante?

3	1	5	6
7	3	9	8
8	6	?	?
9	5	?	?

10	13
12	11

A

10	11
11	10

B

9	10
11	12

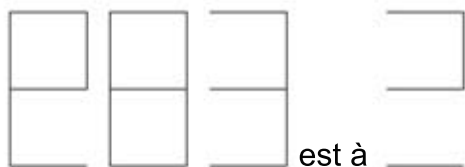
C

11	10
10	11

D

4. Un homme joue à la roulette et commence avec une valeur modeste de jetons. Dans les 10 premières minutes, il a de la chance et double la valeur des jetons initiale, mais dans les 10 minutes suivantes, il perd £ 20.00 en jetons. Dans la troisième 10 minutes il double encore la valeur des jetons qui lui restent mais perd rapidement encore 20.00 £. Il devient ensuite chanceux à nouveau et double la valeur des jetons qui lui restent, après quoi il commence un autre série perdante et perd encore 20.00 £. Il ne lui reste alors plus de jetons. Quelle était la valeur des jetons avec laquelle il a commencé?

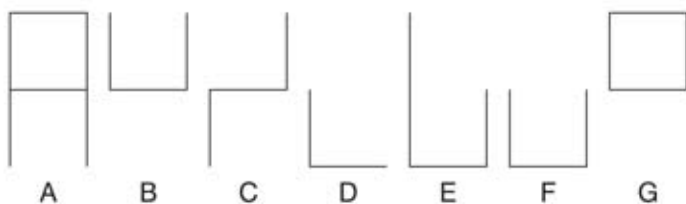
5.



ce que

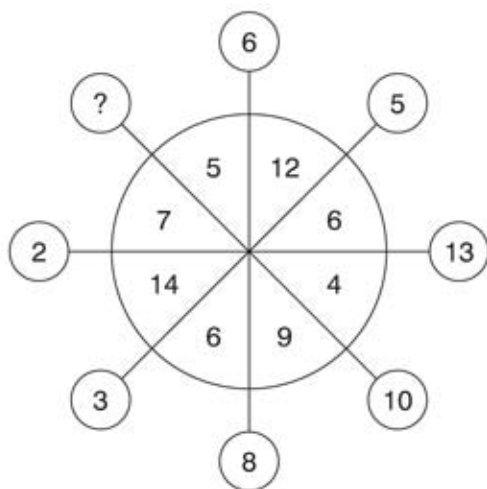


est à

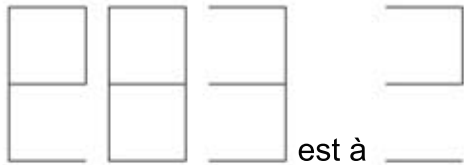


6. Presto est à vite ce que maestoso est à : fort, lisse, majestueux, rigoureux, lent

7. Quel nombre doit remplacer le point d'interrogation?



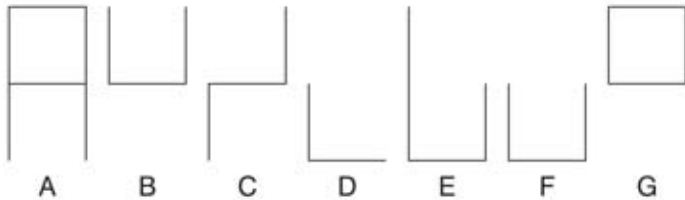
5.



ce que

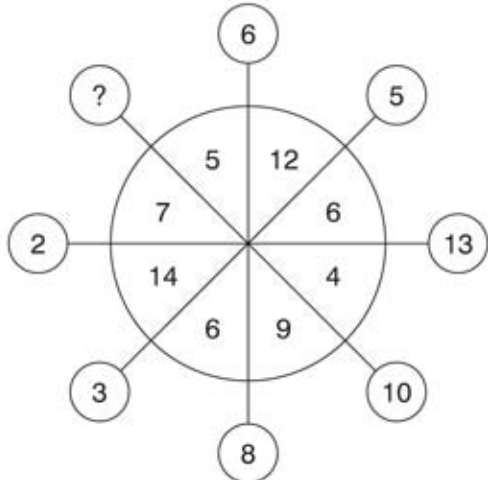


est à



6. Presto est à vite ce que maestoso est à : fort, lisse, majestueux, rigoureux, lent

7. Quel nombre doit remplacer le point d'interrogation?



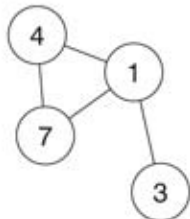
11. Quel nombre doit remplacer le point d'interrogation?

100, 99.5, 98, 95.5, 92, 87.5, ?

12. Quel nombre est de deux places éloignés de lui-même plus 2, trois places éloignés de lui-même multiplié par 2, quatre places éloignés éloigné de lui-même divisé par 2, et trois places loin de lui-même moins 2?

38	18	1	27	21	2
9	16	26	7	6	58
28	20	3	10	32	50
15	24	11	5	36	30
19	8	17	52	13	4
12	22	42	14	44	64

13. Insérer les numéros de 1 à 6 dans les cercles, de sorte que pour tout cercle particulier la somme des nombres dans les cercles qui lui sont reliés directement, est égale à la valeur correspondant au nombre dans ce cercle, comme indiqué dans la liste. Exemple:

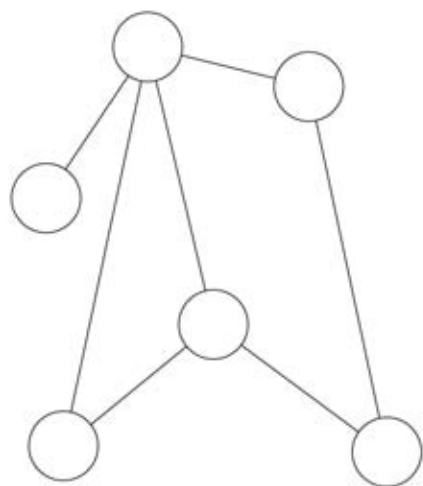


$$1 = 14 (4 + 7 + 3)$$

$$4 = 8 (7 + 1)$$

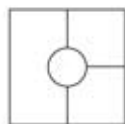
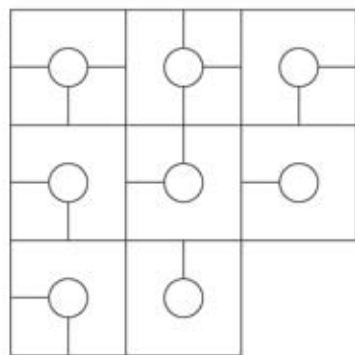
$$7 = 5 (4 + 1)$$

$$3 = 1$$




- 1 = 8
- 2 = 5
- 3 = 5
- 4 = 14
- 5 = 13
- 6 = 9

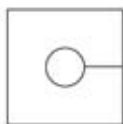
14. Quel est le cube manquant?



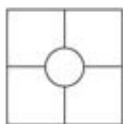
A



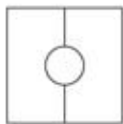
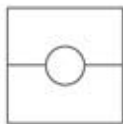
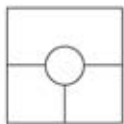
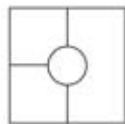
B



C



D



15. Quel nombre doit remplacer le point d'interrogation?

8	2	4	2	106
7	5	3	9	132
7	8	1	2	153
3	9	5	6	131
8	1	2	7	99
9	3	1	7	?

16. Quel est l'intrus?

2772

3663

2970

4275

5841

3564

17. Que veut dire rugoso?

a) Ridé

b) rougeâtre

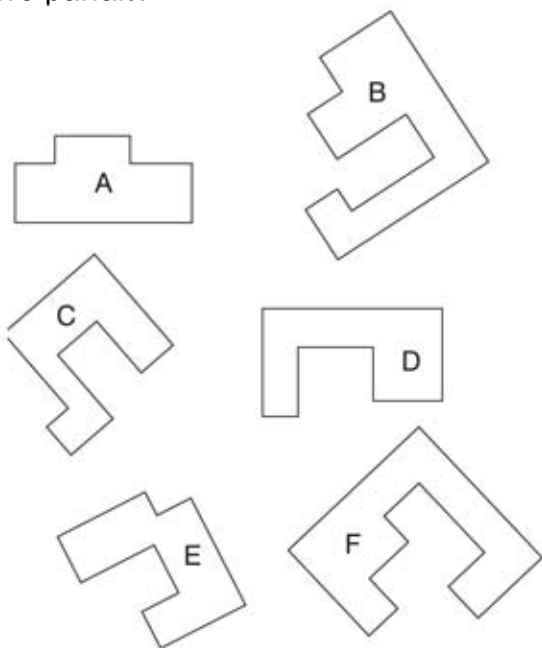
c) déguiser

d) désagréable

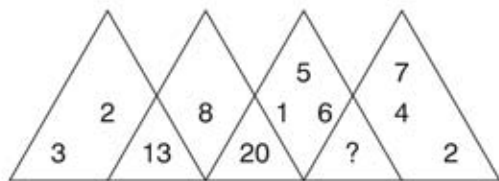
18. Parmi ces mots, quels sont les deux qui ont les sens les plus proches?

Fallacieux, abject, pestilentielle, funeste, mensonger, notable.

19. quelles deux pièces peuvent être assemblées pour former un carré parfait?



20. Quel nombre doit remplacer le point d'interrogation?





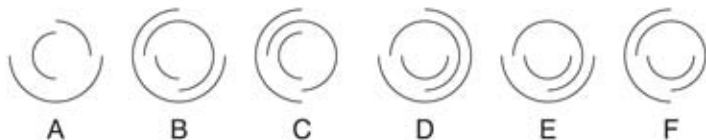
21.



ce que



est à



22. Quel est l'antonyme de indocile?

- a) domptable
- b) méfait
- c) sinistre
- d) vindicatifs

23. Simplifiez:

$$\frac{27}{91} \div \frac{54}{13} \div \frac{9}{13}$$

24. Quel est l'antonyme de pléthore?

- a) pénurie
- b) satisfait
- c) satiété
- d) copieux.

25. quel est l'intrus?

