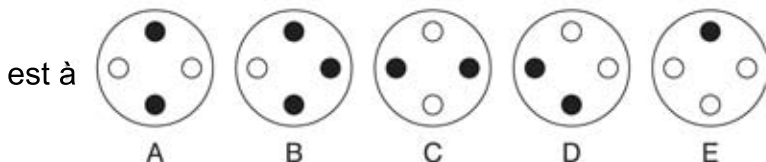
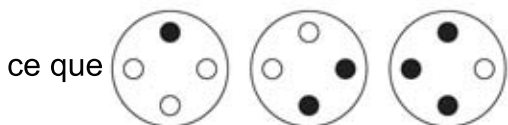
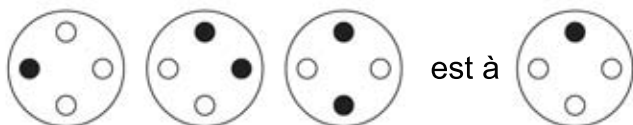


TEST NUMERO 4

1. Quels sont les deux mots qui ont les sens les plus opposés?
Inquiet, tendu, tiède, limité, prédisposé, souple.
2. Le cachemire est à la laine ce que le taffetas est à : la jute, le chanvre, la soie, le coton, le lin?
3. Les âges de cinq membres de la famille totalisent 169 entre eux:
Mary et Stuart totalisent 98 entre eux.
Stuart et Margaret totalisent 90 entre eux.
Margaret et Jack totalisent 50 entre eux.
Jack et George totalisent 33 entre eux.
Quel est l'âge de chaque membre de la famille?
4. Quatre explorateurs dans la jungle doivent traverser un pont de corde au milieu d'une nuit sans lune. Malheureusement le pont n'est assez solide que pour supporter deux personnes à la fois. Aussi, parce qu'au fond de la jungle dans une nuit sans lune, il fait nuit noire, les explorateurs ont besoin d'une torche pour les guider, sinon il est très probable qu'ils trébuchent et tombent dans le ravin. Cependant ils n'ont qu'une seule torche.

James Young peut traverser le ravin, en 2 minutes, sa sœur Jane peut traverser en 3 minutes, leur mère Henrietta peut traverser en 5 minutes, mais vieux colonel Lent-sauteur, ne peut entraver travers qu'en 10 minutes. En combien de temps est-il possible pour tous les quatre d'atteindre l'autre côté?

5.



6. Quel nombre doit remplacer le point d'interrogation?

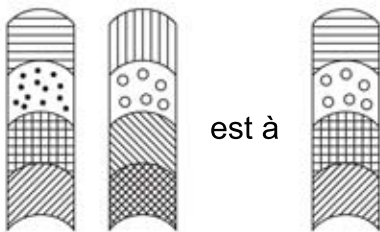
1, 1, 8, 4, 15, 7, 22, 10, ?

7. Lequel de ces mots est le plus proche de sens à harmoniser?


Contrôler, gâcher, cohérer, accélérer, recueillir

8. La moyenne des trois nombres est 17. La moyenne de deux de ces trois nombres est de 17,5. Quelle est la valeur du troisième nombre?

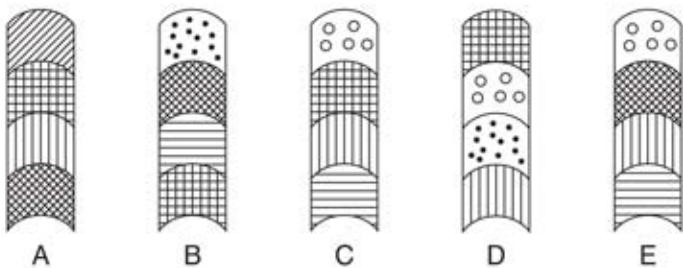
9.



ce que



est à



10. Quel nombre doit remplacer le point d'interrogation?

15	27
35	23

32	19
18	31

12	47
?	26

11. Qu'est-ce qu'un mascaret ?

- a) une grande vague
- b) une vieille lettre runique
- c) le bec d'un instrument à vent
- d) une ouverture dans un mur
- e) une bretelle à frange.

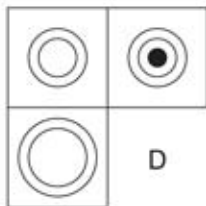
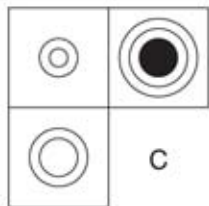
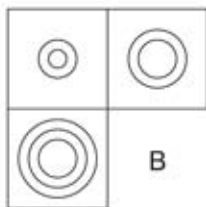
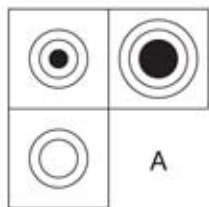

12. Quel nombre doit remplacer le point d'interrogation?

7		6
14		
4		9

8		5
18		
9		6

3		5
?		
2		8

13. Quel est la section manquante?



14. Qu'est-ce qu'un habitacle?

- a) Un boîtier pour une boussole
- b) Un navire de commerce
- c) Un pavillon
- d) Une piste de ski

15. Sue, Harry et Pat ont 168 € ensemble. Le montant global de l'argent que Sue et Harry ont est le double de celui de Pat. Le montant combiné de l'argent que Harry et Pat ont est le même que Sue. Combien d'argent a chacun?

16. Qu'est-ce qu'un rétroflexe?

- a) un moteur à essence
- b) une lettre retournée
- c) un type de plante
- d) tourné à l'envers

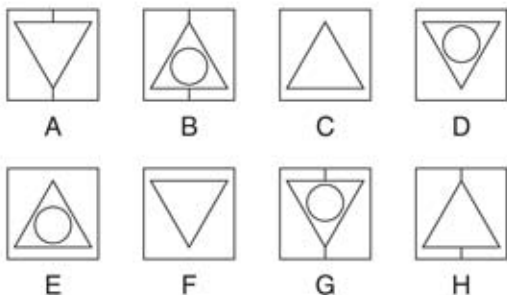
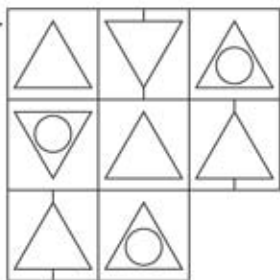
17. Simplifiez:

$$\frac{9}{13} \div \frac{18}{26} - \frac{90}{52}$$

$$-$$

$$13 \quad 26 \quad 52$$

18. Quel est le carré manquant?



19. Quel nombre doit remplacer le point d'interrogation?

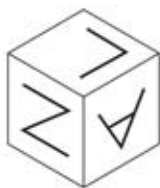
56	3	49	27	18
74	62	19	8	35
65	92	?	34	81

20. Qu'est-ce qu'un plongeur?

- a) un poids de pêche
- b) un tuyau
- c) un outil pour les drains bloqués
- d) un type de club de golf

Combien de minutes avant 12 heures si il ya 44 minutes il était 10 heures et trois fois plus de minutes?

22. Lorsque la forme ci-dessus est plié pour former un cube, quel est, parmi les suivants, l'unique qui peut être formé



A



B



C



D



E