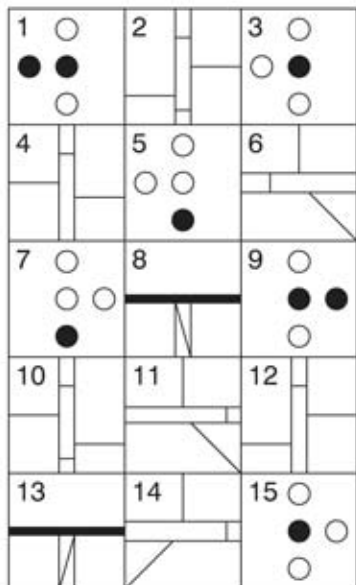


TEST NUMERO 5

1. Quel est l'intrus?



2. Quels sont les deux mots de sens les plus opposés?
 Richesse, l'équité, favoritisme, empathie, profit, malaise

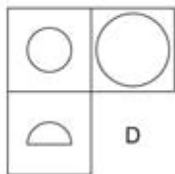
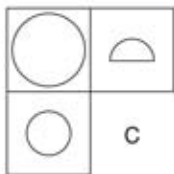
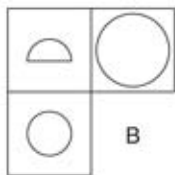
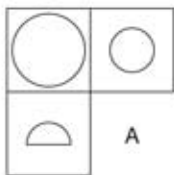
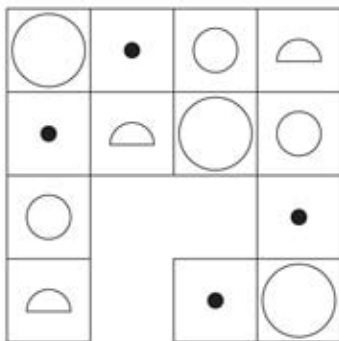
3. Quel nombre doit remplacer le point d'interrogation?



4. Quel nombre doit remplacer le point d'interrogation?

6	8	10	5
9	2	8	4
11	3	7	8
5	8	?	2

5. Quelle est la section manquante?



6. Quel est l'intrus?

A choisi, a pardonné, a commencé, a chanté, congelé.

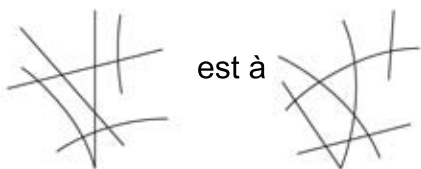
7. Trouvez ci-dessous sept nombres consécutifs dont la somme est 23.

947251739244572561854

8. Quel nombre doit remplacer le point d'interrogation?

1, 2, 6, 12, 36, 72, ?

9.



ce que



est à



A



B



C



D



E

10. Qu'est ce que le shaddock?

- a) un fragment de poterie
- b) un dispositif de collecte de l'eau
- c) un câble de support d'un mât d'un navire
- d) un pamplemousse
- e) une petite ferme

11. Une photographie mesurant 8,5 par 7,5 cm doit être agrandie. Si l'agrandissement du côté le plus long est de 13,6 cm, quelle est la longueur du plus petit côté?

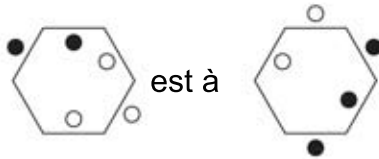
12. Complétez la ligne de lettres du bas.

A	C	E	G
D	F	H	J
G	I	K	M
?	?	?	?

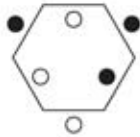
13. Qu'est ce qu'un faux pont?

- a) le plus bas pont d'un navire
- b) un champ de tir
- c) un parapet
- d) Une procession

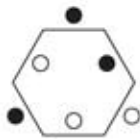
14.



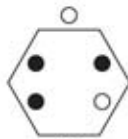
ce que



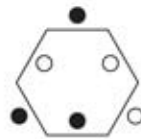
est à



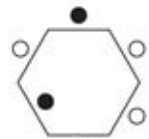
A



B



C



D

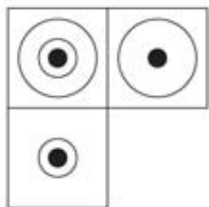
15. Parmi les mots suivants, quels sont les deux ayant les sens les plus proches?

Idolâtrer, odieux, dégénérer, opprobre, déifier, exaltation

16. Parmi les mots suivants, quels sont les deux ayant les sens les plus proches?

Irradier, conduite, éclairer, mensonger, moelleux.

17. Quel est le carré manquant?



A



B



C



D

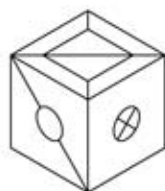
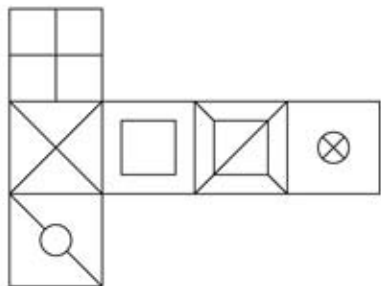


E

18. Parmi les mots suivants, quels sont les deux ayant les sens les plus proches?

Hermétique, hirsute, velu, schismatique, emblématique, hérétique.

19. Quand cette forme est pliée pour former un cube, parmi les cubes suivants quel est celui qui peut être produit?



A




B



C



D



E

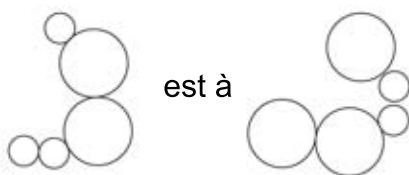
20. Quel nombre doit remplacer le point d'interrogation?

7	4	6
2	8	9
3	1	7

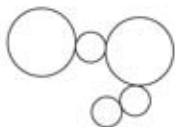
8	4	7
2	9	9
4	1	8

8	3	7
1	9	8
4	?	8

21.



ce que



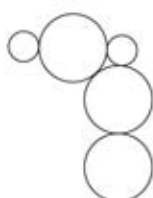
est à



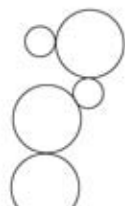
A



B



C



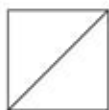
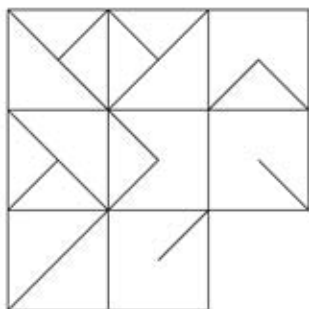
D

22. Quel nombre doit remplacer le point d'interrogation?

7	8	2	6
3	8	2	5
1	7	6	2
8	4	5	4

8	7	1	5
4	7	1	6
2	8	5	1
7	3	6	?

23. Quel est le carré manquant?



A



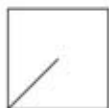
B



C



D



E



F



G

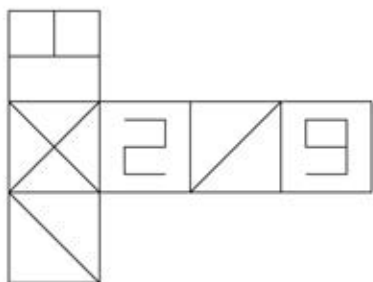


H

24. Quel nombre doit remplacer le point d'interrogation?

5	6	4	8	6
2	4	2	7	9
3	7	9	5	3
1	2	9	6	8
8	4	3	5	?

25. Quand cette forme est pliée pour former un cube, parmi les cubes suivants quel est celui qui peut être produit?



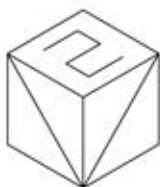
A



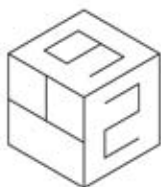
B



C



D



E