

# TEST NUMERO 9

1. Identifiez deux nombres compris entre 1 et 60 qui répondent à la fois à toutes les conditions suivantes:

Ils sont divisibles par 3.

Lorsque les chiffres sont additionnés, le total est compris entre 4 et 8.


Ce sont des nombres impairs.

Lorsque les chiffres sont multipliés, le total est entre 4 et 8.

2. Quel est l'intrus?

Cylindre, cube, pentagone, tétraèdre, sphère

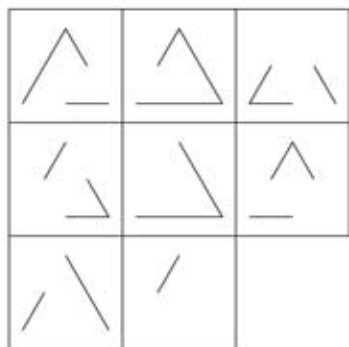
3. Chaque nombre de la pyramide est la somme des deux nombres immédiatement en dessous. Remplissez la pyramide avec les nombres manquants.



4. Quel nombre doit remplacer le point d'interrogation?

4	4	2	2	5	2
•	•	•	•	•	•
2	1	4	3	1	3
•	•	•	•	•	•
?	6	0	4	3	4

5. Quelle est la tuile manquante?



A



B



C



D



E



F



G

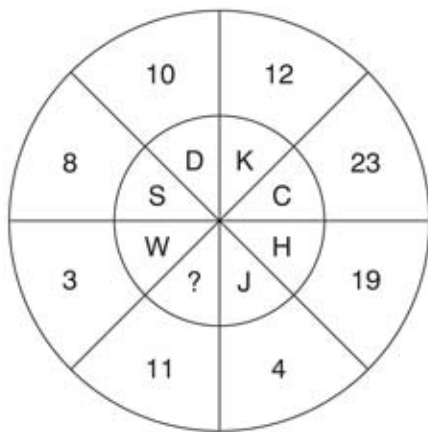


H

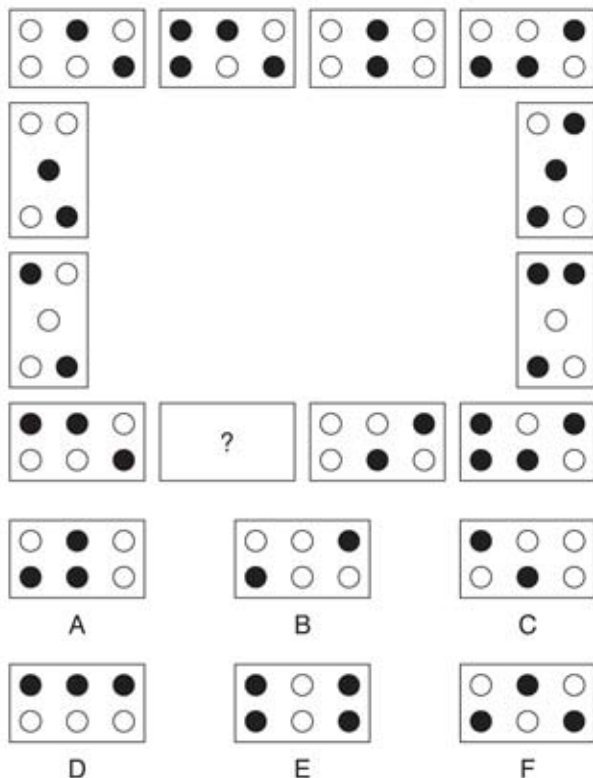
6. Quel nombre doit remplacer le point d'interrogation?

1, 2, 4, 6, 9, 12, 15, 19, 23, 27, 31,

7. Quelle est la lettre manquante?



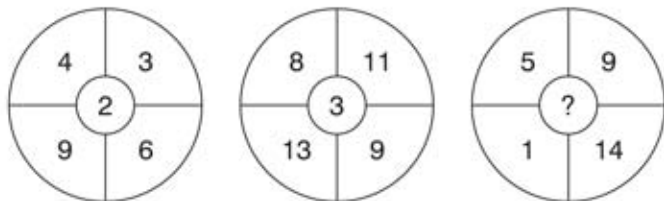
8. Quel nombre doit remplacer le point d'interrogation?



9. Parmi les deux mots ci-dessous, quels sont les deux les plus proches de sens?

Délectable, luxuriant, magnifique, abondant, énergétique, optimiste.

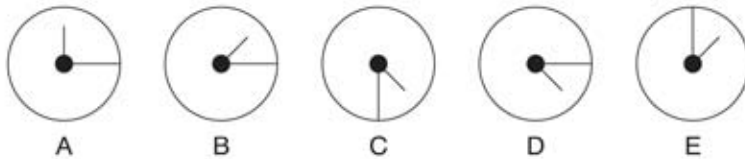
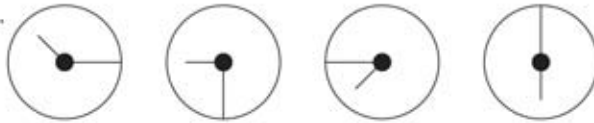
10. Quel nombre doit remplacer le point d'interrogation?



11. Qu'est ce qui vient après?

96421, 13469, 96441, 15469, ?

12. Qu'est ce qui vient après?



13. Lesquels de deux de ces mots sont synonymes?

Conformité, surnuméraire, maintenir, pieux, accord, poursuite

14. Lesquels de deux de ces mots sont synonymes?

Altercation, désolé, divertir, restreint, répugnant, querelle.

15. Qu'est-ce qu'un rondeau?

- a) une plaine
- b) un rond-point
- c) un poème
- d) un château

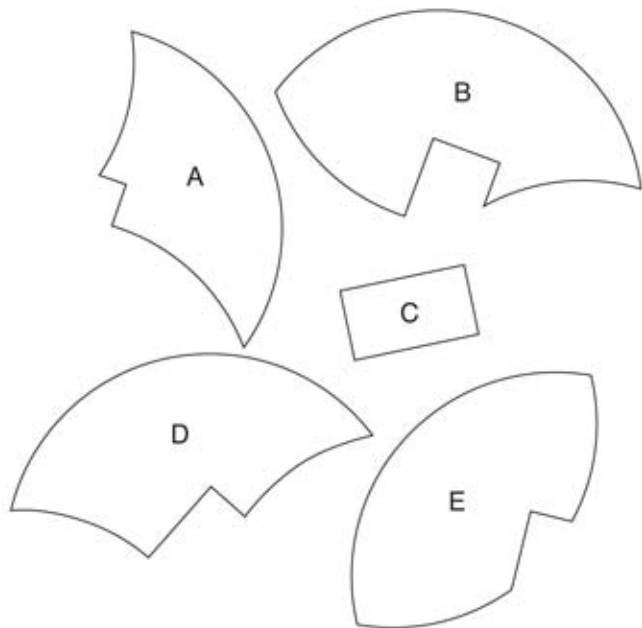
16. Complétez avec les nombres manquants. Le lien entre les trois nombres dans chaque ligne est le même.

	63	27
--	----	----

48		36
----	--	----

29	92	
----	----	--

17. Quatre des cinq pièces ci-dessous peuvent être assemblées pour former un cercle parfait. Quel est le morceau intrus ?



18. Quel est le nombre manquant?

784, 588, 440, ? , 60

19. Quel est le sens de milch?

- a) eaux grasses pour le bétail
- b) donner du lait
- c) la paille nouvelle
- d) fourrage pour chevaux.

20. Quel bouclier a le plus en commun avec le bouclier ci-dessus?



A



B



C

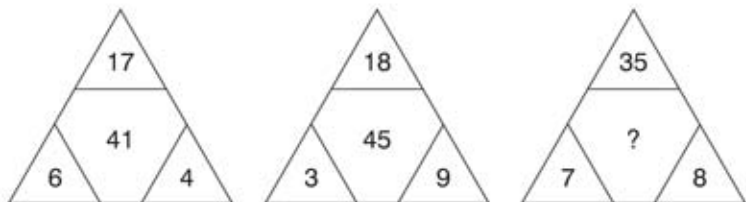


D

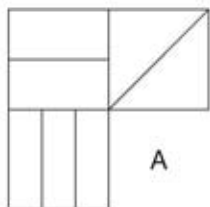
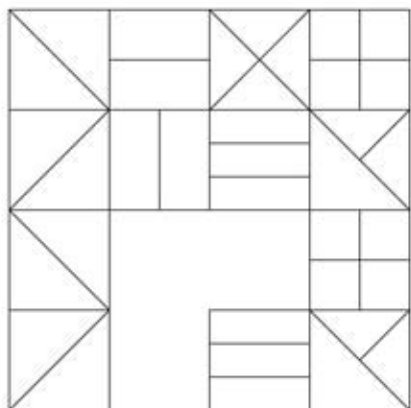


E

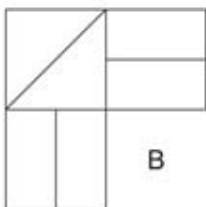
21. Quel nombre doit remplacer le point d'interrogation?



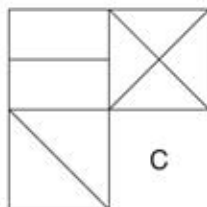
22. Quelle est la pièce manquante?



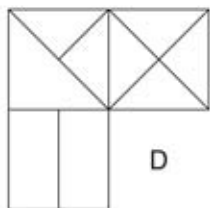
A



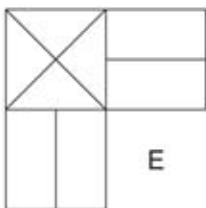
B



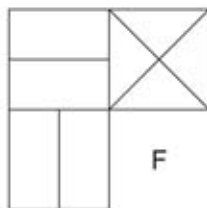
C



D



E



F